

MATEMATIIKAN TARKISTUSLOMAKE ENSIMMÄINEN LUOKKA – KEVÄT

Pisteityksestä: Jokaisesta oikeasta vastauksesta saa yhden pisteen ja väärästä vastauksesta nolla pistettä. Jos lapsi on merkinnyt kaksi vastausta samaan tehtävään, vastaus tulkitaan vääräksi. Vastaamattomasta kohdasta annetaan myös nolla pistettä.

LUKUMÄÄRÄISYYDEN TAJU (LMT)

Suuruusluokka – suurin



Mikä on suurin numero?	63	59	48	61
Mikä on suurin numero?	66	91	78	89
Mikä on suurin numero?	122	102	201	112

Suuruusluokka – pienin



Mikä on pienin numero?	72	70	76	81
Mikä on pienin numero?	89	91	88	98
Mikä on pienin numero?	107	170	117	171

MATEMAATTISTEN SUHTEIDEN HALLINTA (MSH)

Sarjoittaminen



Mikä numero tulee viivalle?	5, 6, 7 ...	8
Mikä numero tulee viivalle?	6, 8, 10 ...	12
Mikä numero tulee viivalle?	5, 10, 15 ...	20



Mikä numero tulee viivalle?	7, 6, 5 ...	4
Mikä numero tulee viivalle?	8, 6, 4 ...	2
Mikä numero tulee viivalle?	9, 7, 5 ...	3

ARITMEETTISET PERUSTAIKOT (APT)

Yhteenlasku symboleilla



3+7	10	9+3	12
6+9	15	7+8	15
4+8	12	9+7	16

Vähennyslasku symboleilla



12-3	9	11-8	3
15-9	6	13-6	7
14-7	7	16-7	9

Yhteenlaskun täydentäminen



5+_=7	2	_+2=6	4
2+_=10	8	_+5=9	4

Vähennyslaskun täydentäminen



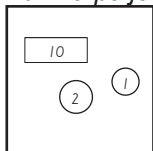
5-_=2	3	_ -3=1	4
10-_=4	6	_ -5=3	8

LUKUJÄRJESTELMÄTIEDON SOVELTAMINEN LASKEMISESSA (LSL*)

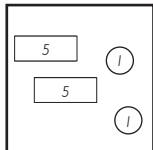
Rahojen laskeminen



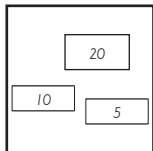
Kuinka paljon rahaa on yhteensä?



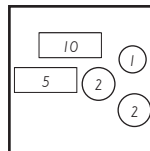
13



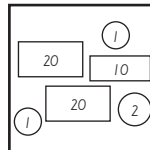
12



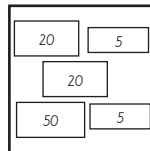
35



20



54



100